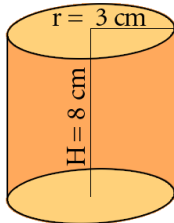




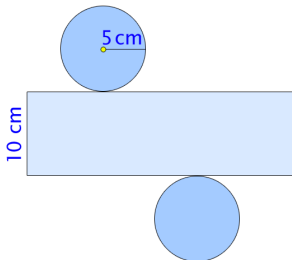
## В А Љ А К



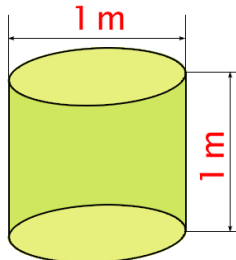
1. Колика је површина осног пресека ваљка са слике?



2. Одреди површину ваљка чија је мрежа дата на слици.



3. Колика је запремина ваљка са слике?



4. Бунар, облика ваљка, дубине 12 метара и пречника основе 2 метра до половине је напуњен водом. Колико литара воде има у бунару?